



SİVAS ZEKİ HAYRAN HAFİZİHO

4. SINIFLAR

SEVİYE BELİRLEME SINAVI

2024

Adı Soyadı :

Okulu :

T.C. Kimlik No :

ALANLAR	SORU SAYISI	TOPLAM SORU SAYISI	SÜRE
TÜRKÇE	15	60 SORU	90 DAKİKA
MATEMATİK	15		
FEN BİLİMLERİ	10		
SOSYAL BİLGİLER	10		
DİN KÜL.AH.BİL.	10		

1. Sınav süresince gözetmenlerin uyarılarına dikkat ediniz.
2. Sınav süresince kitap, sözlük veya elektronik araçları yanınızda bulundurmuyunuz.
3. Cevap kağıdınızdaki bilgilerin doğruluğunu kontrol ediniz.
4. Kitapçık üzerindeki ad-soyad, sınıf-no, okul bilgileriniz kodlamayı unutmayınız.
5. Cevap kağıdınız üzerinde bulunan kitapçık türünü doğru kodladığınızdan emin olunuz.
6. Sınavın değerlendirilmesi optik okuma araçları ve elektronik ortamda yapılacağından ikili veya toplu kopya çekilmesi tespit edilmektedir. Bu gibi durumlarda sınavınız geçersiz sayılacaktır.
7. Cevap kağıdı üzerinde kurşun kalemle işaretleme yapınız. Değiştirmek istediğiniz cevabınızı yumuşak silgi ile iz bırakmadan siliniz. Cevap kağıdınızı buruşturmayınız ve katlamayınız.
8. Soru kitapçığınızı sınav başlamadan kontrol ediniz. Eksik sayfa varsa değiştirilmesini isteyiniz.
9. Sınav bitiminde cevap kağıdınızı teslim etmeyi unutmayınız. Her sorunun bir doğru cevabı bulunmaktadır.
10. Başlayınız denilmeden kitapçığınızı açmayınız.
11. ÖNEMLİ: TC Kimlik numaranızı cevap formu üzerindeki alana dikkatli kodlayınız.



1.

Görselden "İstiklal Yolu" adlı tiyatro gösterisi ile ilgili aşağıdakilerden hangisine ulaşamaz?

- A) Gösteri tarihi
B) Gerçekleştirileceği yer
C) Ne kadar süreceği
D) Kimlerin katılabileceği

2. Aşağıda altı çizili kelimelerden hangisi türemiş bir sözcüktür?

- A) Sevinçli bir şekilde önündeki sandalyeye oturuverdi.
B) Millî maçlarda herkesi büyük bir coşku alır.
C) Masanın altındaki çiçeklerden bir demet uzattı.
D) Denizlerin çok ötesindeki kara parçalarında yaşayan canlıları merak ettim.

3. Aşağıdaki cümlelerde geçen altı çizili sözcüklerin hangisinde yazım yanlışı vardır?

- A) Doktor Mehmet bey, dedemi benden önce muayene etti.
B) Dünya, Güneş'in çevresinde döner.
C) Mehmet Akif, herkesçe bilinen bir şairdir.
D) Bu ayın Diyanet Çocuk dergisi çıkmış.

4. (Soruyu tabloya göre cevaplayınız.)

Şehir	Nüfus	Yüzölçümü	İlçe sayısı
İstanbul	15.655.924	5.460	39
Ankara	5.803.482	25.669	25
İzmir	4.479.525	12.181	30
Konya	2.180.149	40.757	31
İllere ait bilgiler			

Tabloya göre aşağıdakilerden hangisi doğrudur?

- A) En çok nüfus İstanbul'da olmasına rağmen en az ilçe de ondadır.
B) Konya en geniş alana sahipken ilçe sayısına göre ise sonuncudur.
C) Tabloyu hangi bilgiye göre sıralarsak sıralayalım İzmir, tüm verilerde üçüncü sıradadır.
D) Ankara nüfus olarak da ilçe sayısı olarak da ikinci sıradadır.

5. Ülkemizde Hava Ambulans hizmeti ilk olarak 28 Ekim 2008 tarihinde hizmete başlayan iki Helikopter Ambulans ile verilme-ye başlanmış, Mart 2009 tarihinde sayısı artırılarak ülke genelinde yaygınlaştırılmıştır. Şu anda Ankara, İstanbul, İzmir, Adana, Antalya, Konya, Samsun, Trabzon, Erzurum, Kayseri, Malatya, Van, Diyarbakır illerimizde birer adet olmak üzere 16.05.2023 tarihi itibarıyla 13 adet Helikopter Ambulans hizmet vermektedir. Ülkenin coğrafi yapısı, ulaşım şartları, nüfus yoğunluğu, hâkim meteorolojik şartlar ve stratejik bölgeler göz önüne alınarak ambulans helikopterler için konuşlanma yerleri tespit edilmiştir. Ambulans helikopterler gündoğumu-günbatımı arasında hizmet vermekte olup, konuşlandıkları iller merkez olmak üzere yakıt ikmali yapmadan 400 km. mesafeye kadar hasta/yaralı naklini gerçekleştirebilmekte ve iki saat otuz dakika hava da kalabilmektedir.

Parçaya göre Hava Ambulans hizmetiyle ilgili aşağıdakilerden hangisi yanlıştır?

- A) Sağlık açısından önemli hizmetler yapmaktadır.
- B) Farklı şehirlerde hasta nakil hizmeti vermektedir.
- C) Zamanla sayıları çoğalmış ve daha geniş alanlarda hizmet vermiştir.
- D) Günün her saati ve her hava şartında görev yapmaktadır.

6. Ormanların korunması, sadece bitki örtüsü türlerinin yaşamlarının sürdürülebilirliği için değil aynı zamanda hepimizin refahı ve geleceği için de büyük önem taşır. Ormanların tahrip edilmesi ve yok olması, doğal dengenin bozulmasına ve büyük sorunlara yol açar. Ormanlar, su ve besin maddesi döngülerinin önemli birer parçasıdır. Havayı temizleyen, toprağı tutan ve verimli olmasını sağlayan ormanları korumak, hepimizin sorumluluğudur.

Parça aşağıdakilerden hangisinin cevabıdır?

- A) Ormanları korumak neden önemlidir?
- B) Ormanlarda hangi bitki türleri vardır?
- C) Doğal dengeyi bozanlar nasıl engellenmelidir?
- D) Temiz havanın sağlığa etkisi nedir?

7. Boş zamanlarda yapılan etkinliklerin psikolojik açıdan kişiye olumlu yönde etki ettiği bilinmektedir. Kişi çeşitli aktivitelerle kendini iyi hissedebilir. Zihinsel olarak yorgun veya üzgün olduğu durumlarda bu etkinliklerle biraz olsun üzüntü ve yorgunluğundan uzaklaşabilir. Boş zaman etkinlikleri yüksek olan kişilerin yaşamdan zevk alma düzeylerinin yüksek olduğu kabul edilmektedir

Bu metne verilecek en uygun başlık aşağıdakilerden hangisidir?

- A) Boş zamanların önemi
- B) Psikoloji bilme aşamaları
- C) Etkinlik çeşitleri
- D) Zihinsel yorgunluk düzeyi

8. "Kaza yerine yaklaşan genç (1) adama (2) kendisinin doktor olduğunu belirtip kazazedeye müdahale edebileceğini söyledi." cümlesinde virgölün konulacağı yere göre cümlelerin anlamı farklılık göstermektedir. Cümlede virgölün konulabileceği iki farklı yer ayrıçlarla gösterilmiştir.

Virgölün kullanımı ile ilgili aynı durum aşağıdakilerden hangisinde de bulunmaktadır?

- A) Otobüs, minibüs veya taksi fark etmez.
- B) Ekmek sırasına baktı, epey bekleyeceğini düşündü.
- C) Cenk, Mehmet ve Salim birlikte yemek yedikten sonra çay içtiler.
- D) Yaşlı, kimseye derdini bir türlü anlatamıyordu.

9. (1) Yazdığım yazıyı dikkatle okuduğunu söyledi. (2) Hatta bazı cümlelerin yanına notlar almış. (3) Okudukları hakkında hiç renk vermedi. (4) Artık not verdiğinde anlayacağız ne düşündüğünü.

Bu metindeki numaralandırılmış cümlelerden hangisinde "düşüncesini belli etmeme" anlamına gelen mecaz anlamlı bir ifade kullanılmıştır?

- A) 1. B) 2. C) 3. D) 4.

10. Çok arkadaş sahibi olmak mı önemli yoksa dostlarının olması mı? Arkadaşlıkla dostluk arasında fark var mı diye sorarsanız elbette var. Bir insanın en zor zamanlarında yanında olan kimse dostudur. Dost aynı zamanda acı da olsa doğruyu söyler. Kişinin her zaman duymak istediklerini söylemeyebilir. Onun iyiliğini düşünür. Bu yüzden sayıca arkadaşlardan daha azdır.

Bu parçadan aşağıdakilerden hangisine ulaşamaz?

- A) Dostluk arkadaşlıktan önemlidir.
- B) Dostlar birbirlerinin iyiliğini ister.
- C) Arkadaşlıklar her zaman geçicidir.
- D) Dostlar zor zamanlarda birbirine destek olur.

11. Aşağıdaki cümlelerin hangisinde kişisel (öznel) bir görüş vardır?

- A) Takımlar sahada 11 oyuncuyla yer alır.
- B) Karadeniz Bölgesi dünyanın en yeşil bitki örtüsüne sahip bölgesidir.
- C) Bu kitap 128 sayfadan oluşmaktadır.
- D) Termometre oda sıcaklığının 29 derece olduğunu gösteriyor.

12. Aşağıdaki cümlelerden hangisinin sonuna soru işareti getirilmelidir?

- A) Neden o şekilde baktı anlamadım
- B) Ne kadar samimi olduğu belli değil
- C) Köyden yeni mi gelmiş
- D) Hangi yemek güzel bilmiyorum

13. Aşağıdakilerden hangisinde karşıt anlamlı kelimeler aynı cümle içinde kullanılmıştır?

- A) Dere tepe yürüyüp sonunda köye ulaştık.
- B) Bulutlu bir gündü ve hava da bozuktu.
- C) Kimi beyaz kimi ak diyor bu renge.
- D) Ellerini sıcak sudan soğuk suya sokmazdı.

14. O kadar ağırbaşlı bir kimseydi ki ona hemen ısındım.

Isı ve nem bitkilerin yetişmesi için elverişli koşullar sağlar.

Soğuktan gelen aile ısınmak için hemen sobayı tutuşturdu.

Bu cümlelerde geçen altı çizili kelimelerin anlam özellikleri aşağıdakilerden hangisinde sırasıyla doğru verilmiştir?

- A) Mecaz – Terim – Gerçek
- B) Terim – Mecaz – Gerçek
- C) Gerçek – Mecaz – Terim
- D) Terim – Gerçek – Mecaz

15. I. Çünkü kaza geçirdiği için hastanede kalmış ve günlerdir sulamadığı çiçeklerinin solduğunu düşünmüştü.

II. Kapıyı açınca gördüğü manzara karşısında şaşkınlığını gizleyemedi.

III. Günlerdir evde olmadığı için çiçeklerinin ne hale geldiğini düşünerek eline anahtarı alıp kapıya yöneldi.

IV. Ancak yedek anahtarı dedesine verdiğini hatırladı ve herhalde dedem onları sulamış diye düşündü.

Verilen cümlelerden anlamlı bir paragraf olması için doğru sıralama aşağıdakilerden hangisidir?

- A) 4 – 3 – 1 – 2
- B) 2 – 1 – 4 – 3
- C) 1 – 3 – 2 – 4
- D) 3 – 2 – 1 – 4

Türkçe testi sona ermiştir. Lütfen Diğer Teste Geçiniz.

Cevap Formunuzda Cevaplarınızı Bir Sonraki Bölüme Kodlayınız.

1. Bir manavda 2, 3 ve 5 kiloluk çuvalarda patates satışı yapılmaktadır. Bir gün içinde 89 müşteri 2 kiloluk, 17 müşteri 3 kiloluk çuvalarla patates almıştır. Gün sonunda manavda satılan patates miktarı toplam 394 kilodur.

Buna göre gün içinde kaç müşteri 5 kiloluk patates çuvalı almıştır?

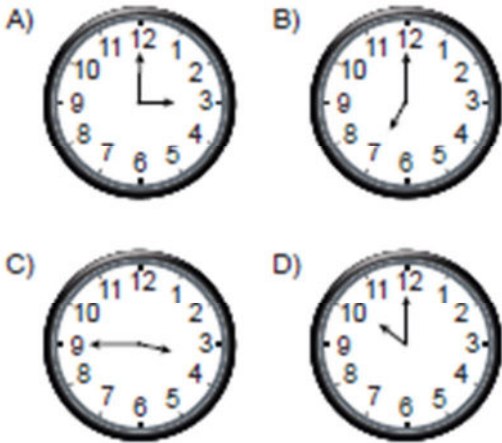
- A) 33
B) 35
C) 37
D) 39

2. 24 kişinin bulunduğu bir sporcu kafilesinin $\frac{3}{8}$ 'i futbolcu, $\frac{1}{6}$ 'sı basketbolcu, geriye kalanı ise voleybolcudur. Kafilede üç spor branşının dışında sporcu bulunmamaktadır.

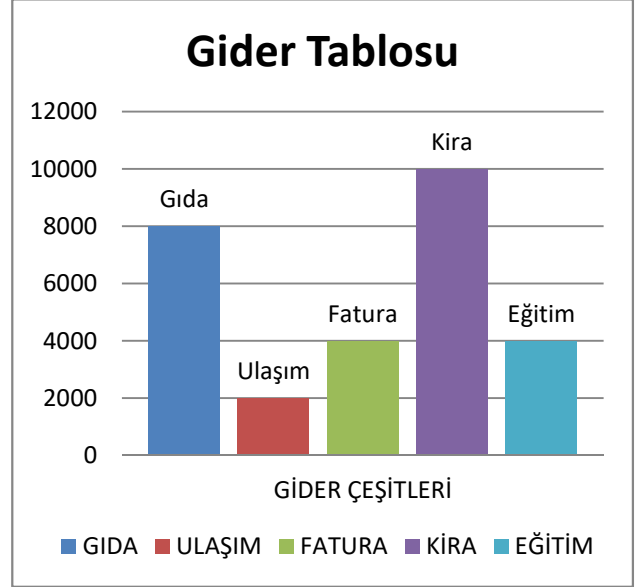
Buna göre bu kafiledeki voleybolcu sayısı kaçtır?

- A) 5
B) 7
C) 9
D) 11

3. Aşağıdaki saat modellerinden hangisinde akrep ile yelkovanın arasında kalan açı bir dik açıya örnektir?



4. Aylık geliri 28000 TL olan bir ailenin aylık giderleri aşağıdaki tabloda verilmiştir. Grafikteki masrafların sıralaması tablonun altındaki kısımda yer almaktadır.



Yukarıdaki bilgilere göre aşağıdaki şıklardan hangisi yanlıştır?

- A) En yüksek gider kira masrafıdır.
B) Ulaşım masrafı ile eğitim masrafları eşittir.
C) Masraflar arasındaki en büyük fark ulaşım ile kira gideri arasındadır.
D) Ailenin gelirleri giderlerini karşılamaktadır.

5. Aşağıda elle yapılan bir bölme işlemine ait işlemler gösterilmiştir.

$$\begin{array}{r}
 525 \quad | \quad 25 \\
 - \quad \boxed{?} \quad \boxed{?} \\
 \hline
 25 \\
 25 \\
 - \\
 \hline
 \boxed{?}
 \end{array}$$

Bu işlemde soru işaretiyle gösterilen yerlerden birine aşağıdakilerden hangisi yazılamaz?

- A) 0
B) 2
C) 21
D) 50

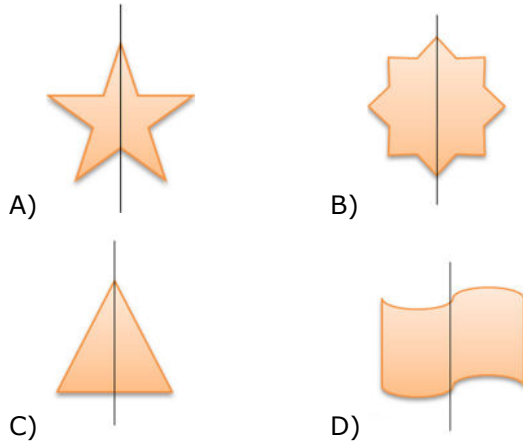
6.

$$X > (1252 + 1785)$$

Yukarıda verilen işlemde **X** yerine yazılabilecek en küçük doğal sayı kaçtır?

- A) 3017
B) 3120
C) 3038
D) 3345

7. Aşağıda verilenlerden hangisinde simetri çizgisi doğru çizilmemiştir?



8. 6, 4, 8, 2 rakamlarını kullanarak oluşturulan en büyük doğal sayı 1, 8, 5, 4 rakamlarını kullanarak oluşturulan en küçük doğal sayıdan kaç fazladır?

- A) 4563
B) 7184
C) 7856
D) 6842

9. Bölünenin 589, bölenin 8 olduğu bölme işleminde bölüm ile kalanın çarpımı kaçtır?

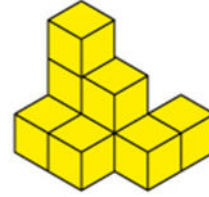
- A) 365
B) 432
C) 255
D) 127

10. ABC açısının ölçüsü, doğru açının ölçüsünün $\frac{1}{4}$ 'inden 32 derece fazladır.

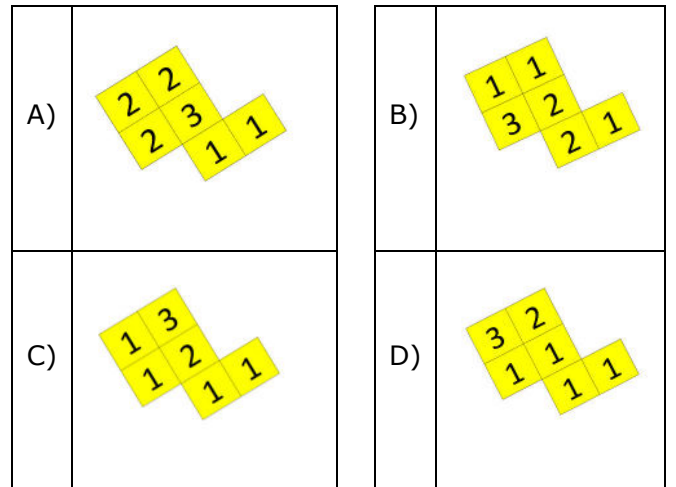
Buna göre ABC açısı kaç derecedir?

- A) 67
B) 69
C) 73
D) 77

11.



Yukarıda birim küplerle oluşturulan yapının birim küp sayısını gösteren yapı planı aşağıdakilerden hangisidir?



- 12.** Bir terzi 45 metrelik bir top kumaşı satışı sunmuştur. İlk gelen müşteri kumaşın 550 cm'sini alır. Sonra gelen müşteri 11750 mm'sini alır.

Buna göre bu satışlardan sonra bu kumaştan geriye ne kadar kalmıştır?

- A) 27 m
B) 20 m 75 cm
C) 2775 cm
D) 33250 mm

13.

$\frac{12}{37}$		$\frac{7}{37}$
$\frac{11}{37}$		
$\frac{4}{37}$	$\frac{16}{37}$	

Yukarıdaki tabloda her satır ve sütundaki kesirlerin toplamı birbirine eşittir.

Buna göre taralı bölümlerden herhangi birine aşağıdakilerden hangisi yazılamaz?

- A) $\frac{13}{37}$ B) $\frac{3}{37}$
C) $\frac{7}{37}$ D) $\frac{8}{37}$

- 14.** Bir doğal sayının 354 eksiği, en küçük dört basamaklı tek doğal sayıya eşittir.

Buna göre, bu doğal sayı kaçtır?

- A) 1354
B) 1355
C) 1365
D) 1377

- 15.** Dört yüzücünden oluşan bir yüzme takımı katıldıkları bir yarış 2. sırada bitirmiştir. Bu takımın dört yarışmacısının yüzme süreleri şu şekildedir:

1. yüzücü: 1 dakika 42 saniye
2. yüzücü: 1 dakika 41 saniye
3. yüzücü: 1 dakika 55 saniye
4. yüzücü: 2 dakika 11 saniye

Yarış 1. bitiren takım ise bu takımdan 4 saniye daha erken sürede yarış tamamlamıştır.

Buna göre yarış kazanan takımın toplam yüzüş süresi aşağıdakilerden hangisidir?

- A) 7 dakika 25 saniye
B) 7 dakika 27 saniye
C) 7 dakika 29 saniye
D) 7 dakika 33 saniye

Matematik testi sona ermiştir. Lütfen Diğer Teste Geçiniz.

Cevap Formunuzda Cevaplarınızı Bir Sonraki Bölüme Kodlayınız.




1. Fosillerin oluşumu için gerekli koşullardan biri de canlı kalıntısınınI..... temasının kesilmesidir.

Fosilleri inceleyen bilim dalınaII..... denir.

Metinde boş bırakılan yerlere gelmesi gerekenler aşağıdakilerden hangisinde verilmiştir?

	I	II
A)	Havayla	Paleontoloji
B)	Suyla	Antropoloji
C)	Rüzgârla	Filoloji
D)	Buzullarla	Ekoloji

2.

I.		Stetoskop
II.		Megafon
III.		Teyp kaseti

Verilenlerden hangisi sesin şiddetini arttıran araçlardandır?

- A) Yalnız I
B) I ve II
C) II ve III
D) I, II ve III

3. Aşağıdakilerden hangisi mıknatısın yaşamda kullanıldığı alanlardan **değildir**?

- A) Pusula yapımında
B) Geri dönüşüm ayrıştırıcıda
C) Buzdolabı kapaklarında
D) Hava sıcaklığını ölçen termometrelerde

4. Sporcular, egzersiz yaparken enerjiye ihtiyaç duymaktadır. İhtiyaç duydukları enerjiyi öncelikle karbonhidrat açısından zengin besinlerden elde edebilirler. Vücuda yeteri kadar enerji sağlayacak karbonhidrat alınmadığı durumlarda ise vücut, kendisindeki yağı enerji için kullanmaya başlar.

Buna göre sporcuların enerji ihtiyaçları için öncelikle almaları gereken besinlere aşağıdakilerden hangisi örnek verilebilir?

- A) Tahıl ürünleri
B) Süt
C) Portakal
D) Ispanak

5.



Norveç'te akıllı otoyol lambaları dönemi başladı. Yaklaşık 10 kilometre boyunca döşenen akıllı lambalar, yoldan araç geçtiği an tam kapasite ile çalışıyor. Yol boşken ise ışık kapasitesini %20'ye düşürüyor. Haftada 2100 kwh daha az enerji harcanmasını sağlamaktadır. Sensörlü aydınlatmalar sayesinde düşük trafik yoğunluğu olan bölgelerde daha az parlaklıkta ışık vermektedir.

Bu uygulama hakkında aşağıdakilerden hangisi söylenemez?

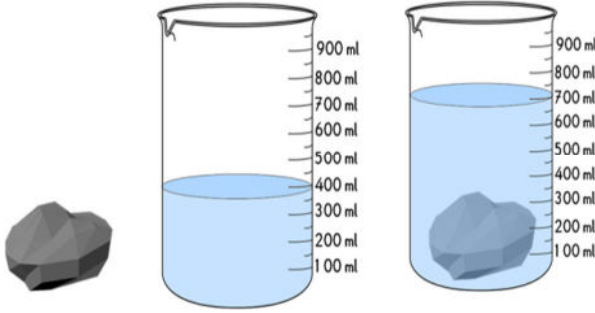
- A) Işık kirliliğinin önlenmesine yöneliktir.
B) Çevreye duyarlı bir uygulamadır.
C) Enerji tasarrufu sağlanmaktadır.
D) Ses kirliliğinin azalmasını sağlar.

6. Kayaçları oluşturan küçük parçalara mineral adı verilmektedir. Mineraller yalnızca kayaçlarda değil su ve besinlerde de bulunur. Dünya'da çok sayıda mineral çeşidi bulunmaktadır. Bir mineral ne kadar az bulunuyorsa o kadar değerli kabul edilir. Değerli minerallerden oluşan ve bunun için ekonomik değeri yüksek olan kayaçlara maden adı verilir.

Buna göre aşağıdakilerden hangisi diğerlerinden daha değerli kabul edilir?

- A) Magnezyum
- B) Demir
- C) Elmas
- D) Kömür

7.



Görselde yapılan ölçüm aşağıdakilerden hangisine aittir?

- A) Hacim
- B) Uzunluk
- C) Kütle
- D) Sıcaklık

8. **Seher:** Küçükken günde bir bardak süt ve bir yumurtayı mutlaka yemişim.

Alper: Gece yatmadan önce mutlaka ekmeğarası bir şeyler yerim.

Mustafa: Sebze yemeklerini de severim, et yemeklerini de severim.

Cenk: Her sabah mutlaka pastaneden bir poğaçaya yemeden güne başlamam.

Hangi öğrencilerin ifadeleri doğru beslenme alışkanlığına örnektir?

- A) Seher ve Alper
- B) Seher ve Mustafa
- C) Alper ve Cenk
- D) Mustafa ve Cenk

9. Satılan bazı ürünlerin raf ömrünü arttırmak için içine katkı maddeleri konulur. Ancak bu maddelerin doğal olanları bulunduğu gibi doğal olmayanları da vardır. Katkı maddeleri vücudumuzun sağlığı için zararlı maddeler içerebilir. Bu nedenle katkı maddeleri belirli oranlarda kullanılmalıdır. Gereğinden çok veya zararlı çeşitleri kullanılan katkı maddeleri sağlığa zarar verebilir. Ülkemizde gıdaların sağlığa uygun üretilip üretilmediğini kontrol eden kurumlar vardır.

Aşağıdakilerden hangisi bu kurumlardandır?

- A) Türk Standartları Enstitüsü
- B) AMATEM
- C) Olgunlaşma Enstitüsü
- D) TÜBİTAK

10.



Görselde buruşturulmuş bir kâğıt topağı görülmektedir.

Bu örnekte kullanılan kuvvetin etkisi ile aşağıdaki örneklerden hangisindeki etki aynıdır?

- A) Bisikletin pedalinin çevrilmesi
- B) Giden bir aracın frene basılarak durdurulması
- C) Teneke bir kutunun eğilmesi
- D) Karşıdan gelen topa vurarak onun yana doğru gönderilmesi

Fen Bilimleri testi sona ermiştir. Lütfen Diğer Teste Geçiniz.

Cevap Formunuzda Cevaplarınızı Bir Sonraki Bölüme Kodlayınız.

1. I. Okuma yazmayı çok severim.
II. Koşu yarışmasında her zaman ilk üçe girmişimdir.
III. Hastalandığım için ilaç kullanmak zorunda kaldım.
IV. Matematik konusunda kendime çok güvenirim.

Verilen ifadelerden hangisinde yetenek bildiren bir anlatım bulunmaktadır?

- A) Yalnız II
B) I ve III
C) II ve IV
D) I, II ve III

2. I. Dünya Savaşı sona erdiğinde yapılan antlaşmalar gereği İtilaf Devletleri İstanbul'u işgal ettiler. Ardından Osmanlı Mebuslar Meclisi'nin mebuslarının bir kısmını tutuklayıp meclisi de kapattılar. Tutuklanmaktan kurtulan mebusların bir kısmı ise Ankara'da toplandılar. Yine memleketin pek çok yerinden seçilen mebuslar da kısa bir süre sonra Ankara'da toplanıp bir araya geldiler.

Metinde aşağıdaki konulardan hangisi anlatılmaktadır?

- A) Türkiye Büyük Millet Meclisi'nin açılması
B) Sakarya Meydan Savaşı'nın kazanılması
C) Fransızlara karşı direnişin başlaması
D) Lozan Barış Antlaşması

3. Tarihi bir piyes için rol seçimi yapılmaktaydı. Öğrenciler yaşadıkları şehirlerinin düşman işgalinden kurtuluşu ve milli mücadele konusunda bir oyun oynayacaklardır. Dağıtılması gereken rollerden ikisi Çakmakçı Sait ve Sütçü İmam adlı iki karakterdi.

Buna göre bu piyeste düşman askerleri olarak rol alacak oyuncuların hangi ülkeden olması beklenir?

- A) İtalya
B) Yunanistan
C) İngiltere
D) Fransa

4. Damdan düşenin halinden damdan düşen anlar. Çünkü kendini onun yerine koyması daha kolaydır. Çünkü benzer duygu ve düşünceleri hissedecek olay onun da başından geçmiştir.

Bu metinde aşağıdaki kavramlardan hangisi ile ilgili açıklama yapılmıştır?








- A) Empati
B) Ön yargı
C) Güven
D) Özgürlük

5. Merve ve Ceren birlikte halk oyunları kursuna yazılırlar. Bir süre birlikte gittikleri kurstan bir süre sonra Ceren ayrılmak istediğini söyler. Merve ise halk oyunları öğrenmekten hoşlanmaktadır. Ceren ise merakının asıl fotoğrafçılığa olduğunu fark ettiğini belirtir.

Metne göre Merve ve Cerenle ilgili aşağıdakilerden hangisi söylenebilir?

- A) Merve, fotoğrafçılık hakkında bilgi sahibi olmadığı için o kursa gitmemiştir.
B) Merve ile Ceren arasında bireysel farklılık bulunmaktadır.
C) Ceren, halk oyunlarını bilmediği halde fotoğrafçılığı öğrenmiştir.
D) Ceren, Merve'den daha yetenekli ve daha çok imkâna sahiptir.

6.

Günler	Pazartesi	Salı	Çarşamba	Perşembe	Cuma	Cumartesi	Pazar
Hava olayı							
Sıcaklık	5°C	7°C	8°C	8°C	9°C	15°C	16°C

Görselde bir ilimize ait bir haftalık sıcaklık ve hava durumu gösterilmektedir.

Buna göre bu verilerle ilgili aşağıdakilerden hangisi yanlıştır?

- A) Sıcaklık değerleri gün gün artış göstermektedir.
B) Belli bir günden sonra hava sürekli güneşli ve açıktır.
C) Rüzgâr ve yağmur hafta başında etkili olacaktır.
D) Sıcaklık değeri aynı olan iki günde aynı hava olayı olmuştur.

7. Tarihteki ilk gözlük, bir çerçeve ile çevrili basit bir dışbükey kuvars taşı veya kristal çifti, her taş için bir sap, kulplar bir perçinle birbirine bağlanmış ve gözlükler burun üzerinde dengelenmiş veya yüzün önünde tutulmuş şekildeydi. Günümüzde daha gelişmiş modellerinin yanında çeşitli ameliyatlara gözlük görevi gören mercekler göze yerleştirilebilmektedir.

Metinde hangi alandaki teknolojik gelişime örnek verilmiştir?

- A) Sağlık
- B) Temizlik
- C) Ulaşım
- D) Haberleşme

8. Teknolojinin günlük hayat içerisinde bize birçok katkısı olmakta ve hayatımızı kolaylaştırmaktadır. Bununla birlikte faydasının yanında bilinçsiz kullanımı da sosyal hayatımıza zarar vermekte, bizim boş yere vakit kaybetmemize sebep olmaktadır. Teknolojik aletlerle çok vakit kaybettiğimiz için bazı öğrencilere aileleri tarafından önlemler alınmıştır.

Atıf: Konyaspor'un hafta sonu oynayacağı maçı televizyondan izlememe izin verildi.

Yunus: Günlük yarım saat telefonda oyun oynamama izin verildi.

Mehmet: Bilgisayarda vakit geçirme sürem en fazla 40 dakika olarak belirlendi.

Ömer: Her bölümü 25 dakika süren çizgi diziyi haftada bir bölüm olarak izlememe izin verildi.

Buna göre hangi öğrenci kurala uymuştur?

- A) Atıf, Çarşamba günü yayınlanan Konyaspor-Sivasspor maçını izlemiştir.
- B) Yunus, Salı günü saat 17:50-18:25 arasında oyununu oynamıştır.
- C) Mehmet, 19:10'da bilgisayar karşısına geçmiş 19:43'de ise bilgisayarını kapatmıştır.
- D) Ömer, Cuma günü tabletinden iki bölüm birden çizgi dizi izlemiştir.

9.



Merve, yaşadığı ili bize şöyle tarif etmiştir: "Tunceli'nin güneyinde, Malatya'nın doğusunda yer alan şehirde yaşıyorum. Bu iki ille de sınırimız bulunmaktadır."

Buna göre Merve'nin yaşadığı şehir aşağıdakilerden hangisidir?

- A) Erzincan
- B) Sivas
- C) Elazığ
- D) Adıyaman

10. Ülkemizde uzun yıllar ortalamalarına göre en yüksek yağışlar Doğu Karadeniz Bölgesi Rize ve Artvin kıyılarında 1600 mm üzerinde gerçekleşirken, en düşük yağışlar İç Anadolu'nun orta kesimleri ile Şanlıurfa ve Iğdır çevrelerinde gözlenmektedir.

Buna göre Rize ve Artvin'de aşağıdaki doğal afetlerden hangisine karşı daha çok hazırlık yapılmalıdır?

- A) Deprem
- B) Sel
- C) Kuraklık
- D) Çığ

Sosyal Bilgiler testi sona ermiştir. Lütfen Diğer Teste Geçiniz.

Cevap Formunuzda Cevaplarınızı Bir Sonraki Bölüme Kodlayınız.

1. "Allah ve melekler peygambere salât ediyorlar; ey iman edenler, siz de ona salât ve selâm okuyun." (Ahzab suresi, 56. ayet)

Ayetteki emri yerine getirmek için öncelikle aşağıdaki dua veya surelerden hangisi okunmalıdır?

- A) Rabbenâ
B) Fatiha
C) Subhaneke
D) Salli Barik

2.



Temel anlamı "Allah isterse" şeklindedir. Ancak bir isteğimizin gerçekleşmesi için temenni anlamında da kullanılır. Örneğin görseldeki öğrencinin savaşların durması temennisi için söylemesi gibi...

Metinde anlatılan ve konuşma balonundaki noktalı yere yazılması gereken dini ifade aşağıdakilerden hangisidir?

- A) İnşallah
B) Maşallah
C) Subhanallah
D) Bismillah

3. Yemekten sonra veya su içince Allah'a hamd ederim. Allah'tan başka ilah yoktur. Peygamberimiz Hz. Muhammed'in adı anılınca hemen salavat getiririm.

Bu konuşmada aşağıdakilerden hangisine değinilmemiştir?

- A) Elhamdu lillahi hamden kesiran
B) Allahu Ekber kebira
C) Sallallahu aleyhi ve sellem
D) La ilahe illallah

4. "Nihayet onları yenilmiş ekin yaprakları haline getirdi." Bu ayet, kötü bir iş yapmak için yola çıkan bir ordunun Allah tarafından yok edilmesi hakkında bilgi vermektedir. Bu olay Peygamberimizin doğumundan az bir zaman önce meydana gelmiştir.

Bu olay hakkında indirilen sure aşağıdakilerden hangisidir?

- A) Nas
B) Maun
C) Fil
D) Tebbet

5. Aşağıda çeşitli dualar ve nerede okundukları ile ilgili bir tablo verilmiştir. Ancak bu tabloda bir yerde yanlışlık yapılmıştır.

	Dua	Nerede söylendiği
I	Allah bereket versin	Birisi vefat ettiğinde
II	Allah zihin açıklığı versin	Sınava girecek birisine
III	Allah şifa versin	Hasta ziyaretinde hastaya
IV	Allah rahmet eylesin	Alışveriş yaparken taraflar birbirine

Bu yanlışlığın giderilebilmesi için iki duanın karşılıklı olarak birbirleriyle yer değiştirmesi gerekmektedir.

Buna göre karşılıklı yer değiştirmesi gereken dualar hangi satırlarda yer almaktadır?

- A) I ve II
B) I ve IV
C) II ve III
D) III ve IV

6. İslam gönderildiği dönemlerde Mekkeli müşriklerle ilgili şunlar söylenebilir: Allah'ı inkar etmiyorlardı ancak putlara tapıyorlardı. Melekleri Allah'ın kızları olarak kabul ediyorlardı. Hz. İbrahim'in soyundan geldiklerini düşünüyorlardı. Ölünce yok olacaklarını ve tekrar diriltilmeyeceklerini söylüyorlardı.

Buna göre Mekkelilerin inançları ile ilgili aşağıdakilerden hangisi söylenemez?

- A) Ahirete iman etmiyorlardı.
- B) Allah'ın varlığını kabul ediyorlar ama birliğine karşı çıkıyorlardı.
- C) Meleklerle ilgili İslam'dan farklı şekilde inanışları vardı.
- D) Hz. İbrahim'i ataları olarak kabul ederken peygamberliği inkar ediyorlardı.

7. Fatıha suresini okuyan bir kimse Allah'tan;

- I. Bol rızık vermesini;
- II. Kendisini doğru yola iletmesini
- III. Yoldan çıkmış olanların yolundan uzak tutmasını
- IV. Gazaba uğramış olanların yolundan uzak tutmasını

İsteklerinden hangisini istemiştir?

- A) Yalnız I
- B) II ve III
- C) I, II ve III
- D) II, III ve IV

8. "Orada apaçık nişaneler, (ayrıca) İbrahim'in makamı vardır. Oraya giren emniyette olur. Yoluna gücü yetenlerin o evi hacetmesi, Allah'ın insanlar üzerinde bir hakkıdır..." (Âl-i İmrân suresi, 97. ayet)

Bu ayette belirtilen ibadeti yerine getirmek isteyen bir kimsenin gitmesi gereken yer aşağıdakilerden hangisidir?

- A) Mescid-i Nebevi
- B) Mescid-i Aksa
- C) Mescid-i Haram
- D) Kuba Mescidi

9. Akşamdan pilavı pişirdim
Gece karnımı doyurdum
Suyu da üstüne içince
Hemen yerime oturdum
Bu aya sultan ay derler
Etili bamya sevenler
Bize sünnet kılınmış
Teravihe erken gelirler

Verilen mani aşağıdaki ibadetlerden hangisine dikkat çekmektedir?

- A) Namaz
- B) Oruç
- C) Hac
- D) Zekât

10. Günlük hayatta kullandığımız bir kavramın tanımı şöyledir: "Dinen izin verilmeyen, Allah'ın kesin olarak yasakladığı ve yapılmamasını istediği"

Metinde tanımı verilen kavram aşağıdaki cümlelerden hangisinin içinde kullanılmıştır?

- A) Bir şey haramsa herkesten önce ondan biz uzak duralım.
- B) İslam'ı, Kur'an'dan ve Peygamberimizin hadislerinden öğreniriz.
- C) Geçerken tezgâhtan bir tane erik aldım, helal et!
- D) Dünyada ne kadar sevap kazanırsan ahirette o kadar rahat edersin.

Sınav sona ermiştir. Cevaplarınızı kontrol etmeyi unutmayınız.

NiVO RESS

güvenle kullanım için...



TÜRKİYE'NİN YERLİ BULAŞIK DETERJANI

NİVORESS İLAÇ KİMYA GIDA AŞ.

İzzet Paşa Mahallesi Yeni Yol Caddesi Nuro Tower Kat: 32 No: 251 Şişli/İstanbul

www.nivoress.com | Tüketici İletişim Hattı: 0850 309 9 305