



HAFİZİHO

Hafız Yetiştirme ve Akademik Başarıyı Destekleme Projesi

HAFIZ YETİŞTİRME VE AKADEMİK BAŞARIYI DESTEKLEME PROJESİ SEVİYE BELİRLEME SINAVI (04 MAYIS 2019 - 14:00)

Ad - Soyad :
Okul :
Sınıf - No :

ALANLAR	SORU SAYISI	TOPLAM SORU SAYISI	SÜRE
1. BÖLÜM	40	60	80 DAKİKA
2. BÖLÜM	20		

1. Sınav süresince gözetmenlerin uyarılarına dikkat ediniz.
 2. Sınav süresince kitap, sözlük veya elektronik araçları yanınızda bulundurmuyunuz.
 3. Cevap kağıdınızdaki bilgilerin doğruluğunu kontrol ediniz.
 4. Kitapçık üzerindeki ad-soyad, sınıf-no, okul bilgileriniz kodlamayı unutmayınız.
 5. Cevap kağıdınız üzerinde bulunan kitapçık türünü doğru kodladığınızdan emin olunuz.
 6. Sınavın değerlendirilmesi optik okuma araçları ve elektronik ortamda yapılacağından ikili veya toplu kopya çekilmesi tespit edilmektedir. Bu gibi durumlarda sınavınız geçersiz sayılacaktır.
 7. Cevap kağıdı üzerinde kurşun kalemle işaretleme yapınız. Değiştirmek istediğiniz cevabınızı yumuşak silgi ile iz bırakmadan siliniz. Cevap kağıdınızı buruşturmayınız ve katlamayınız.
 8. Soru kitapçığınızı sınav başlamadan kontrol ediniz. Eksik sayfa varsa değiştirilmesini isteyiniz.
 9. Sınav bitiminde cevap kağıdınızı teslim etmeyi unutmayınız. Her sorunun bir doğru cevabı bulunmaktadır.
 10. Başlayınız denilmeden kitapçığınızı açmayınız.
 11. Yanlış cevaplar doğru cevapları götürmemektedir.
 12. ÖNEMLİ: TC Kimlik numaranızı cevap formu üzerindeki alana dikkatli kodlayınız.
- © Her hakkı saklıdır. İzinsiz kopyalanamaz, alıntı yapılamaz, yayınlanamaz.

1. Aşağıdaki cümlelerin hangisinde iki-lemeler zıt (karşıt) anlamlı sözcüklerden meydana gelmemiştir?

- A) Masalların özellikleri hakkında az çok bilgim var.
 B) Aşağı yukarı beş saattir seni burada bekliyorum.
 C) Yağmurun ince ince yağdığını yeni fark ettim.
 D) Düşünümüze uzak yakın tüm akrabalarımızı davet ettik.

2. Öğretmenin tavsiyesi üzerine kendi sözlüğünü oluşturmak isteyen Aleyna, okuduğu parçada geçen bazı sözcükleri not etmiştir.

-arma - şahane -abdal
 - neşe -kanaat - kasırğa

Verilen bilgilere göre Aleyna'nın sözlüğünde baştan 3. sırada yer alması gereken sözcük aşağıdakilerden hangisidir?

- A) neşe
 B) şahane
 C) kanaat
 D) kasırğa

3. Aşağıdaki cümlelerin hangisinde yazım yanlışı vardır?

- A) Yaptığı iyilikler de hep Allah rızasını gözetirdi.
 B) Ayşe Teyze'nin hasta olması hepimizi üzdü.
 C) Tam yirmi sekiz gün sonra ailesine kavuştu.
 D) Biz ki üç kıtaya hükmetmiş bir neslin torunlarıyız.

- 4. (1)** Bir zamanlar zengin bir adam varmış. **(2)** Üç kızı olan bu adamın kızlarının ikisi son derece kendini beğenmiş kızlarmış. **(3)** Ama üçüncüsü hem iyi kalpli hem de sevecenmiş. **(4)** Bir gün küçük bir fare kızlara babalarının gemisinin şiddetli fırtınada battığı haberini getirmiş.

Metinde numaralandırılmış cümlelerin hangisinde hayal ürünü bir ifade vardır?

- A) 1 B) 2 C) 3 D) 4

- 5.** Muhammet Bey, Türkçe dersinde 4-A sınıfının tahtasına aşağıdaki cümleyi yazmış ve öğrencilerinden yay ayrıç içerisine uygun noktalama işaretlerini yerleştirmelerini istemiştir. Fakat Halit noktalama işaretlerini yerleştirirken bir hata yapmıştır.

Bulutsuz bir gecede gökyüzündeki yıldızları izliyordum(.) Çoban Yıldızı(')nın hangi yönü gösterdiğini hatırlayamadım. Konuyu anne-me açtığımda şu cevabı aldım(;) - Elbette Kutup Yıldızı kuzeyi(,) Çoban Yıldızı ise güneyi gösterir.

Halit'in yukarıdaki cümlelerde kullandığı noktalama işaretlerinden hangisi yanlıştır?

- A) Nokta
 B) Noktalı virgül
 C) Virgül
 D) Kesme işaret

6. Aşağıdaki cümlelerin hangisi tamamı gerçek (temel) anlamlı sözcüklerden oluşmuştur?

- A) Köye giderken toprak bir yola girdik.
 B) Dün başıma gelenleri hala aklım almıyor.
 C) Birkaç gün içinde yeni arkadaşlarıma ısındım.
 D) Az daha yürürsem bacaklarım kopacak.

7. Son günlerde yaşanan dil sorunlarından en tehlikeli olanı, yabancı sözcüklerin dilimize girip yerleşmesidir. Evimizdeki araçlardan, cadde-sokak, mağaza adlarına kadar birçok yabancı sözcük günlük hayatta kullandığımız dile kadar yerleşmiş. Her yıl ortalama 24 dilin yok olduğu dünyada Türkçemizin de bu diller arasında yer almasını istemiyorsak bu tehlikenin farkında olup dilimize sahip çıkmalıyız.

Yazarın yukarıdaki metinde bahsettiklerinden hangi dersi çıkarmalıyız?

- A) Türkçe ismi olmayan araçları evimize sokmamalıyız.
B) Alışveriş yaparken yerli ürünleri tercih etmeliyiz.
C) Yok olan dilleri öğrenip konuşmalı, yok olmalarına göz yummamalıyız.
D) Yabancı sözcüklerin dilimize girmesini engellemeli, dilimize sahip çıkmalıyız.

8. Aşağıdaki cümlelerin hangisinde kullanılan deyim cümlede anlatılmak istenenle uyum sağlamamıştır?

- A) Daldan dala konmayı bırak da adam gibi bir işe gir.
B) Seni buluncaya kadar akla kararı seçtim.
C) Aile büyüklerinizi el üstünde tutmaya özen gösterin.
D) Kafamı dinlemek için gece gündüz çalıştım, çok yoruldu.

9. Yapım ekleri, eklendiği sözcükten yeni bir sözcük türetir. Yapım eki alan sözcük yeni bir anlam kazanır.

Aşağıdaki altı çizili sözcüklerden hangisi yapım eki alarak türemiştir?

- A) Çocuklar bu küçük kediyi yolda bulmuşlar.
B) Mavi gömleğimi bugün giyeceğim.
C) Telefonun kulaklığını çıkarıp dolaba bıraktı.
D) Bu ayrılık herkesi derinden üzdü.

10. Aşağıda bazı cümleler ve bu cümlelere ait anlam özellikleri eşleştirilmiştir.

Eşleştirmelerin hangisinde hata yapılmıştır?

	Cümle	Anlam özelliği
A)	Şiirinde eski günlerine olan özleminden bahsetmiş.	Örneklendirme
B)	Topladığımız biberler zehir gibi acıymış.	Benzetme
C)	Sibiryaya kaplanları diğer kaplanlardan çok daha iridir.	Karşılaştırma
D)	Birçok kelimenin anlamını bilmediği için okuduğu metni anlayamadı.	Neden - Sonuç

11. Kalanlı bir bölme işleminde bölen 13, bölüm 24 ise bölünen en fazla kaç olabilir?

- A) 326
B) 319
C) 324
D) 313

12. $4 - 7 - 13 - 25 - 49 - ?$

Yukarıdaki sayı örüntüsünde "?" yerine gelecek sayıyı oluşturan rakamların sayı değerlerinin toplamı kaçtır?

- A) 97
B) 48
C) 12
D) 16

13. Aşağıdaki sayılardan hangisi en yakın onluğa yuvarlandığında sonuç 2400 olur?

- A) 2412
- B) 2397
- C) 2407
- D) 2384

14.

$\frac{A-3}{15}$ sayısının basit kesir olabilmesi için A sayısı en fazla hangi doğal sayı değerini alabilir?

- A) 17
- B) 14
- C) 18
- D) 15

15. OLASILIK \rightarrow 12345246 şeklinde kodlama verilmiştir.

Bu kodlamaya göre KAS x AL çarpımının sonucu kaçtır?

- A) 20288
- B) 20576
- C) 14582
- D) 14789

16. Emine parasının $\frac{5}{18}$ ini Halime'ye, $\frac{11}{18}$ ini de Zeynep'e vermiştir.

Emine'nin başlangıçta 90 lirası olduğuna göre; Zeynep'e Halime'den kaç lira fazla vermiştir?

- A) 20
- B) 25
- C) 30
- D) 35

17. 5000 metrelik bir pistte koşan Ahmet, Bilal, Cemil ve Davut koşuyu sırası ile $\frac{1}{15}$ $\frac{1}{10}$ $\frac{1}{6}$ $\frac{1}{12}$ saatte tamamladıklarına göre koşuyu hangi yarışmacı kazanmıştır?

- A) Ahmet
- B) Bilal
- C) Cemil
- D) Davut

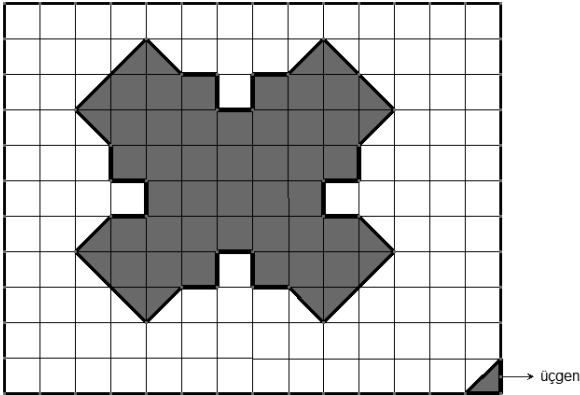
18. 7A83A32 sayısında A rakamlarının basamak değerlerinin farkı 594000 ise A kaçtır?

- a) 4
- b) 5
- c) 6
- d) 7

19. Abdullah'ın bindiği otobüs Kahramanmaraş'a gitmek üzere saat 22:42'de hareket ediyor. Yolculuk 6 saat 25 dakika sürdüğüne göre Abdullah Kahramanmaraş'a saat kaçta varmıştır?

- A) 05:07
- B) 05:17
- C) 04:17
- D) 04:07

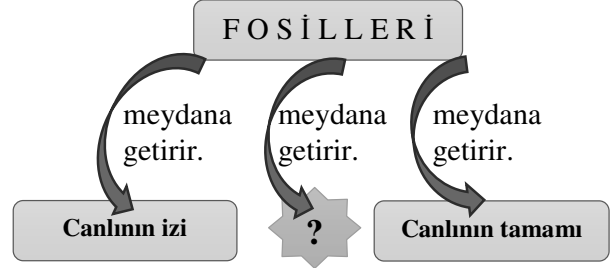
20.



Yukarıdaki taralı bölgeyi oluşturabilmek için alt köşedeki üçgenden kaç tane kullanılmalıdır?

- A) 54
- B) 70
- C) 92
- D) 35

21.



Bu etkinlik şemasında " ? " yerine aşağıdakilerden hangisi getirilemez?

- A) Canlıya ait kemik veya parçalar
- B) Bitki yaprakları
- C) Kayaçlar
- D) Hayvan artıkları

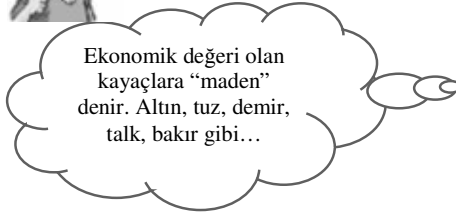
22.

Ahmet



Ekonomik değeri olan kayalara "maden" denir. Taş, toprak, demir, kömür gibi...

Ali



Ekonomik değeri olan kayalara "maden" denir. Altın, tuz, demir, talk, bakır gibi...

Madenlerle ilgili bilgi veren Ahmet ve Ali'nin ifadelerinde bir eksiklik olduğunu fark eden Salih'in bu eksikliği düzeltme cümlesi aşağıdakilerden hangisi gibi olabilir?

- A) Her ikisi de tanımını düzeltmeli
- B) Ahmet örneklerinin bir kısmı değiştirmeli
- C) Ali örneklerinin tamamını değiştirmeli
- D) Ali örneklerinden talkı çıkarmalı


23. Vitaminlerle ilgili;

- I. Vücudumuzda düzenleyici olarak görev yaparlar.
- II. Hastalıklara karşı direnç kazandırır.
- III. Enerji kaynağı olarak kullanılırlar.

Verilen bilgilerden hangileri doğrudur?

- A) Yalnız I
- B) Yalnız II
- C) I ve II
- D) I, II ve III

24.







Yukarıda Dünya üzerinde bazı yerleşim merkezleri nokta ve harflerle gösterilmiştir.

Bu merkezlerde yaşayan kişilerin Güneş'in doğuşunu seyretme sırası (öncelikli) hangi şıktaki gibi olması gerekir?

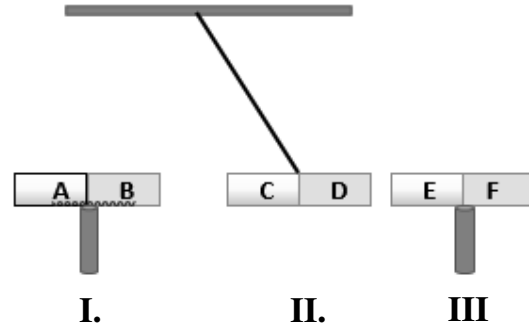
- A) K - N - M
- B) M - N - K
- C) K - M - N
- D) N - K - M

25. Şamil ve bir grup arkadaşı sınıfta yaptıkları bir deneyde makarna üzerine iyot çözeltisi damlatıyorlar. Bir süre beklediklerinde mavi-mor renk oluştuğunu gözlemliyorlar.

Buna göre öğrenciler aynı işlemi aşağıdaki besinlerden hangisinde yaparlarsa benzer sonuç elde ederler?

- A)  Köfte
- B)  Pilav
- C)  Balık
- D)  Tavuk

26.

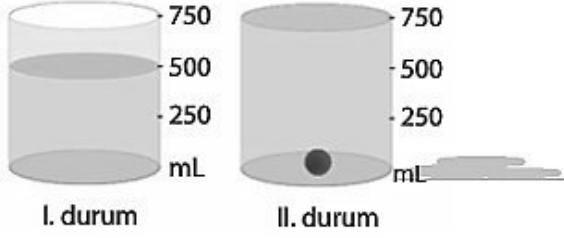


Yukarıdaki düzenekte I. ve III. numaralı mıknatıslar sabitlenmiş II. numaralı mıknatısın ise hareket etmesi sağlanmıştır.

II. numaralı mıknatısın hareket etmesiyle oluşan son durum yukarıdaki gibi olduğuna göre aşağıdaki ifadelerden hangisi doğrudur?

- A) E ve A aynı kutuplardır.
- B) F ve C aynı kutuplardır.
- C) A ve D zıt kutuplardır.
- D) B ve D zıt kutuplardır.

27.

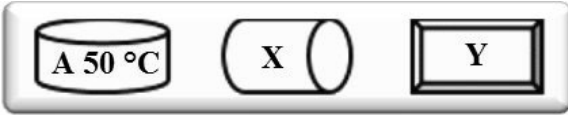


İçerisinde bir miktar su bulunan (I. durum) dereceli silindire bir bilye atılıyor (II. durum).

Bilye atıldıktan sonra 100 ml. su taşıracağına göre aşağıdakilerden hangisi yanlıştır?

- A) Bilyenin hacmi 100 ml'dir.
 B) Suyun miktarı 500 ml'dir.
 C) Bilyenin hacmi suyun hacminden 150 ml eksiktir.
 D) Taşın sıvının hacmi bilyenin hacminden 250 ml eksiktir.

28.

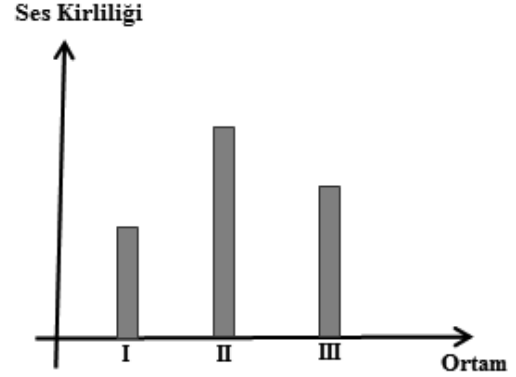


Sıcaklığı **50 °C** olan bir **A** maddesi **X** maddesi ile temas ettiğinde sıcaklığı artıyor. **Y** maddesi **X** maddesi ile temas ettiğinde ise sıcaklığı azalıyor.

Buna göre X ve Y maddelerinin sıcaklıkları aşağıdakilerden hangisi gibi olabilir?

- | | X | Y |
|----|----|----|
| A) | 45 | 60 |
| B) | 48 | 52 |
| C) | 55 | 65 |
| D) | 60 | 55 |

29.



Yukarıda farklı ortamlara ait ses kirliliği verilmiştir. Bu ortamlar aşağıdakilerden hangisi gibi olabilir?

	I	II	III
A)	Okul	İnşaat	Kütüphane
B)	Kütüphane	Okul	İnşaat
C)	Konser	Sınıf	Marangoz
D)	Kütüphane	Marangoz	Okul

30. Aşağıdaki tabloda verilen karışımları ayırmak için hangi yöntemi kullanıyorsa onun altındaki kutuyu boyayacaktır.

NO	KARIŞIMLAR	SÜZME	ELEME	MIKNATIS
1	Nohut-Un	K	H	L
2	Saman-Demir tozu	P	U	A
3	Ayran-Nane	F	Z	T
4	Su-Odun talaşı	I	U	E
5	Raptiye-Kum	M	A	Z

Tablo doğru bir şekilde doldurulduğunda numara sırasına göre yukarıdan aşağı hangi kelime elde edilir?

- A) HAFIZ
 B) HAKEM
 C) KAZIM
 D) LAZIM

31. Tuğba, sınıfa girdiğinde arkadaşı Hayrunnisa'nın sırasında tek başına oturduğunu fark etmiş ve onu dışarıda oynamaya davet etmiştir. Hayrunnisa ise çok üzgün olduğunu söylemiş ve oynamak istemediğini kibarca anlatmıştır. Bunun üzerine Tuğba'da arkadaşının oynamak istemesine kızarak sınıfı terk etmiştir.

Yukarıdaki anlatıma göre Hayrunnisa ve Tuğba'nın arasındaki sorun neden kaynaklanmaktadır?

- A) Hayrunnisa'nın kaba tavrından
B) Tuğba'nın empati yapmamasından
C) Hayrunnisa'nın Tuğba'yı sevmemesinden
D) Tuğba'nın hiçbir arkadaşı tarafından sevilmemesinden

32. I-Dalye

II-Bowling

III-Golf

IV- Topaç Çevirme

Yukarıda verilen oyunlardan hangileri geleneksel çocuk oyunlarımız arasında yer alır?

- A) Yalnız IV
B) I ve II
C) I ve IV
D) II ve III

33. Şerife Bacı, Kurtuluş Savaşı yıllarında cephede savaşan askerlerimiz için kağıyla mermi taşımıştır. Çok zor şartlarda geçen yolculuğunda karlı havaya rağmen yılmamış büyük bir gayret göstermiştir. Şerife Bacı, ısınmak için yanına aldığı yorganını ise ıslanmamaları için mermilerin üzerine örtmüştür. Zorlu yolculuktan sonra Şerife Bacı mermileri teslim edeceği askeri birliğin yakınlarına kadar gelmiş; ancak donarak hayatını kaybetmiştir.

Şerife Bacı ile ilgili aşağıda verilenlerden hangisi yanlıştır?

- A) Fedakârdır
B) Mücadelecidir
C) Vatanseverdir
D) Bencildir

34. 30 Ekim 1918 yılında imzalanan Mondros Ateşkes Antlaşması'ndan sonra Osmanlı Devleti'nin toprakları İngiltere, Fransa ve İtalya tarafından işgal edilmeye başlanmıştır. Mustafa Kemal ise bu işgaller karşısında büyük bir kararlılıkla "Geldikleri gibi giderler" diyerek tarihi bir cevap vermiştir.









Mustafa Kemal'in sözüne bakarak hangisini söyleyebiliriz?

- A) İşgalcilerin yurdumuzdan kovulacağına dair inancı vardır.
B) İşgaller karşısında ümitsiz durumdadır.
C) Vatan için yapabileceği bir şey olmadığını düşünmektedir.
D) Ülkenin geleceğinin karanlık olduğu fikrine ulaşmıştır.

35. Akif Emre, Konya ile ilgili hava durumu bilgilerini izlerken sunucu şu bilgileri vermiştir:

"Konya'da Pazar günü, gündüz hava 17 °C ve parçalı bulutlu; gece ise 3 °C ve yağmurlu olacaktır."

Buna göre Konya ile ilgili hava durumu hangi tabloda doğru verilmiştir?

	GÜNDÜZ	GECE
A)	-3°C 	17°C 
B)	17°C 	3°C 
C)	17°C 	3°C 
D)	-3°C 	17°C 

36. Talha ve arkadaşları kamp kurdukları bölgede yönlerini bulabilmek için yere bir çubuk dikmişlerdir. Çubuğun tam öğle vaktinde yere düşen gölgesine bakmışlar ve gölgenin tam aksi yönünde giderek hedefledikleri noktaya ulaşmışlardır.

Yukarıdaki bilgilere bakarak Talha ve arkadaşları hangi yöne doğru gitmişlerdir?

- A) Güney B) Kuzey
C) Doğu D) Batı

37. Merve: Zonguldak'ta yaşıyorum ve babam taşkömürü yataklarında çalışıyor.

Feyza: Aydın'da yaşıyoruz ve burada bahçemizde zeytin yetiştiriyoruz.

Betül: Babam meyve suyu fabrikasında gıda mühendisi olarak görev yapıyor.

Merve, Feyza ve Betül'ün ailesi hangi ekonomik faaliyetlerde çalışmaktadır?

- | <u>Merve</u> | <u>Feyza</u> | <u>Betül</u> |
|---------------|--------------|--------------|
| A) Sanayi | Tarım | Madencilik |
| B) Madencilik | Sanayi | Ticaret |
| C) Ticaret | Madencilik | Sanayi |
| D) Madencilik | Tarım | Sanayi |

38. Ömer ve annesi alışveriş listelerindeki içeceği almak için ürünü incelemeye başlamışlar, ikilinin arasında aşağıdaki konuşma geçmiş ve ürünü almaktan vazgeçmişlerdir.

Ömer: Anne bu içekte renklendirici, koruyucu madde gibi sağlığa zararlı şeyler var.

Anne: Aynı zamanda bu ürün Türkiye'de üretilmemiş, yerli üretim değilmiş.

Ömer ve annesi bu bilgileri içeceğin hangi kısımlarına bakarak anlamışlardır?

- A) Ürünün son kullanma tarihi ve markası
B) Ürünün içindekiler bölümü ve barkod numarası
C) Ürünün rengi ve ambalajının sağlamlığı
D) Ürünün üretim tarihi ve fiyatı

39. Sınıftaki fiziki haritayı inceleyen Selim, yaşadığı yerin koyu kahverengiyle gösterildiğini gördü. Selim, bunun üzerine yaşadığı ilin neden koyu kahverengiyle gösterildiğini öğretmenine sormuştur.

Anlatılanlardan yola çıkarak Selim'in öğretmeni hangi cevabı vermiştir?

- A) Yaşadığımız yerde ormanlık alanlar az olduğu için
B) Yaşadığımız yerde dağlık alan ve yükselti fazla olduğu için
C) Yaşadığımız yerde sık sık deprem afeti görüldüğü için
D) Yaşadığımız yerde çok fazla tarım ve hayvancılık yapıldığı için

40. Devletimiz, 2016 yılı itibariyle akıllı kart özelliği taşıyan, günümüz teknolojisiyle uyumlu ve daha güvenilir olan yeni kimlik kartlarını vatandaşlarımıza dağıtmaya başlamıştır.

Devletimizin dağıttığı bu yeni kimlik kartlarının önyüzünde aşağıdakilerden hangisi bulunmaz?

- A) Akıllı Çip
B) Sıra No
C) İmza Bölümü
D) Geçerlilik Tarihi

1. BÖLÜM BİTMİŞTİR. LÜTFEN DİĞER TESTE GEÇİNİZ.

1.

مَا أَغْنَىٰ عَنْهُ مَالُهُ وَمَا كَسَبَ	إِيْلَافِهِمْ رِحْلَةَ الشِّتَاءِ وَالصَّيْفِ
سَيَصْلَىٰ نَارًا ذَاتَ لَهَبٍ	الَّذِي جَمَعَ مَالًا وَعَدَّدَهُ

Tabloda yalnızca Lehep suresine ait bölümleri boyadığımızda ortaya çıkacak görüntü aşağıdakilerden hangisidir?

A)

B)

C)

D)

2. Aşağıdaki ayet bölümlerinden hangisi diğer seçeneklerdeki bölümlerle aynı sure içinde yer almamaktadır?

A)	مَنْ شَرَّ الْوَسْوَاسِ الْخَنَّاسِ
B)	وَرَأَيْتَ النَّاسَ يَدْخُلُونَ
C)	فِي دِينِ اللَّهِ أَفْوَاجًا
D)	فَسَبَّحْ بِحَمْدِ رَبِّكَ وَاسْتَغْفِرْهُ

3. İçinde "خَيْرِهِ وَ شَرِّهِ مِنَ اللَّهِ تَعَالَى" ifadesi aşağıdakilerden hangisinde geçmektedir?

- A) Kunut duası B) Ayetul Kursi
C) Tahiyat duası D) Amentü duası

4.

مَالِكِ يَوْمِ الدِّينِ

Teravih namazında cemaate açıktan okuyan bir imam en son yukarıdaki ayeti okumuştur.

Buna göre imam aşağıdakilerden önceden okumuş olmalıdır?

A)	الرَّحْمَنِ الرَّحِيمِ
B)	إِيَّاكَ نَعْبُدُ وَإِيَّاكَ نَسْتَعِينُ
C)	إِهْدِنَا الصِّرَاطَ الْمُسْتَقِيمَ
D)	صِرَاطَ الَّذِينَ أَنْعَمْتَ عَلَيْهِمْ

5.

1	فَلْيَعْبُدُوا رَبَّ هَذَا الْبَيْتِ
2	وَرَفَعْنَا لَكَ ذِكْرَكَ
3	الَّذِينَ هُمْ عَنْ صَلَاتِهِمْ سَاهُونَ
4	وَالْيَلِ إِذَا سَجَىٰ

Verilen ayetlerden hangi ikisi Kureyş ve Maun sureleri içinde yer almaktadır?

- A) 2 - 3 B) 2 - 4
C) 1 - 3 D) 3 - 4

6.

	KEVSER	İHLAS
لَمْ يَلِدْ وَلَمْ يُولَدْ		
فَصَلِّ لِرَبِّكَ وَأَنْحَرْ		
إِنَّ شَانِئَكَ هُوَ الْأَبْتَرُ		
وَلَمْ يَكُنْ لَهُ كُفُوًا أَحَدٌ		

Tabloda verilen ifadelerin hangisinin Kevser hangisinin İhlas suresi içinde yer aldığını işaretlememiz gerekmektedir.

Buna göre tablonun doğru işaretlenmiş hali aşağıdakilerden hangisidir?

A)

KEVSER	İHLAS
	X
	X
X	
X	

B)

KEVSER	İHLAS
X	
	X
X	
	X

C)

KEVSER	İHLAS
	X
	X
X	
	X

D)

KEVSER	İHLAS
	X
X	
X	
	X

7. Selin, namaz dualarından birini ezbere okuyordu. Ancak duanın ... وَنُثْنِي عَلَيْكَ الْخَيْرَ ... bölümünden sonrasını hatırlayamadı.

Buna göre Selin, okuduğu duaya aşağıdaki hangi ifadeyi okuyarak devam etmelidir?

A)	وَنَتَوَكَّلُ عَلَيْكَ
B)	وَنَخْلَعُ وَنَتْرُكُ
C)	كُلَّهُ نَشْكُرُكَ
D)	وَلَا نَكْفُرُكَ

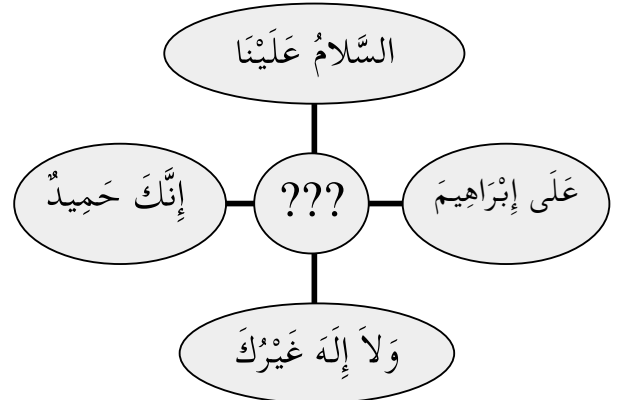
8.

SURE ADI	SON AYETİ
FİL
KUREYŞ
MAUN

Tablodaki surelerin içinden bir ayet karşılıklarına yazmamız istenseydi aşağıdakilerden hangisi bu tabloda kullanılamazdı?

A)	وَأَرْسَلَ عَلَيْهِمْ طَيْرًا أَبَابِيلَ
B)	الَّذِينَ هُمْ عَنْ صَلَاتِهِمْ سَاهُونَ
C)	الَّذِي أَطْعَمَهُمْ مِنْ جُوعٍ وَأَمَّنَّهُمْ مِنْ خَوْفٍ
D)	مَا آغْنَى عَنْهُ مَالُهُ وَمَا كَسَبَ

9.



Şema da bazı dua veya surelerin içinde geçen bölümler yer almaktadır. Buna göre şema içinde aşağıdakilerden hangisine ait bir bölüm yer almamaktadır?

- A) Subhaneke
B) Amentü
C) Tahiyat
D) Salli-Barik

10. Bir öğrenci sınıfta Kur'an okuyordu. Okuma sırasında ... مِنْ شَرِّ مَا خَلَقَ ... ayetinden sonra gelen bölümü hatırlayamadı.

Öğrencinin hatırlayamadığı ayet aşağıdakilerden hangisidir?

A)	فِي جِيدِهَا حَبْلٌ مِّنْ مَّسَدٍ
B)	الَّذِي يُوسِّسُ فِي صُدُورِ النَّاسِ
C)	وَمِنْ شَرِّ غَاسِقٍ إِذَا وَقَبَ
D)	فَسَبَّحْ بِحَمْدِ رَبِّكَ وَاسْتَغْفِرْهُ إِنَّهُ كَانَ تَوَّابًا

11. Günlük yaşantımızda sıkça kullandığımız ve barış, esenlik, huzur anlamına gelen sözdür. Bu sözü söylediğimizde karşımızdakine "Bana güvenebilirsin, benden sana zarar gelmez." şeklinde mesaj vermiş oluruz. Karşımızdaki de bize aynı şekilde cevap verir.

Bu söz aşağıdakilerden hangisidir?

- A) Tekbir
B) Selam
C) Besmele
D) Tevhid

12. "Yalnızca Sana kulluk eder, yalnızca Senden yardım dileriz."

Türkçe anlamı verilen ayet aşağıdakilerden hangisinde yer almaktadır?

- A) Fatiha
B) Kafirun
C) Nas
D) Fil

13. Amentü duasının anlamı içinde aşağıdaki inanç esaslarından hangisi diğerlerinden sonra söylenmektedir?

- A) Allah'a iman
B) Peygamberlere iman
C) Kitaplara iman
D) Meleklerle iman

14. Aşağıdakilerden hangisi sallı ve barik dualarında geçen konulardan **değildir**?

- A) Hz. Muhammed'in (s) ailesine selam
B) Hz. İbrahim'in ailesine selam
C) Allah'ın en yüce ve övülen olduğu
D) Ahirete inanmamız gerektiği

15. Allah'ım! Sen tüm eksikliklerden uzaksın. Seni daima överim. Senin adın kutludur.

Bir bölümü yukarıda verilen dua aşağıdakilerden hangisidir?

- A) Tahiyat
B) Salli Barik
C) Subhaneke
D) Kunut

16. Okulun bitişiğindeki camiden öğle ezanı okunmaya başladı. Müezzin "....." sözleriyle başlayan ezanı pek de güzel okuyordu. Herkes müezzinin yanık sesiyle okuduğu ezanın güzelliği karşısında adeta kendinden geçmişti.

Metinde boş bırakılan yer aşağıdakilerden hangisi ile ilgilidir?

- A) Tekbir
B) Besmele
C) Hamd
D) Salavat

17. “De ki: O, Allah tektir. Allah Samed’dir. (Her şey O’na muhtaçtır, O, hiçbir şeye muhtaç değildir.)”

Bir bölümü verilen İhlas suresinde hangi inanç esası anlatılmaktadır?

- A) Allah’a iman
- B) Peygamberlere iman
- C) Kitaplara iman
- D) Meleklerle iman

18. “Lâilâhe illallah Muhammedün Resulullah” cümlesidir. Anlamı; “Allah’tan başka ilah yoktur, Hz. Muhammed Allah’ın elçisidir.” şeklindedir.

Metin aşağıdaki hangi ifadenin açıklamasıdır?

- A) Kelime-i Şehadet
- B) Kelime-i Tevhid
- C) Salavat
- D) Tekbir

19. Kur’an-ı Kerim’in;

I- En uzun suresidir.

II- Son suresidir.

III- En kısa suresidir.

Verilenler arasında aşağıdaki hangi sure ile ilgili bilgi yer almamaktadır?

- A) Kevser
- B) Nas
- C) Bakara
- D) Fatıha

20. “Akrabalar arası bağların koparılmaması, aile içinde sevgi, malda bolluk ve ömrün uzamasına (bereketlenmesine) sebeptir.” (Tirmizi)

Bu hadisin söyleniş amacı aşağıdakilerden hangisidir?

- A) Akrabalarla ilgiyi kesmemek gerekir.
- B) Zengin olmak kişinin temel amacı olmasıdır.
- C) Uzun ömürlü olmak için sağlığa dikkat etmek gerekir.
- D) Akrabalarla çeşitli ortaklıklar kurmak iyidir.

SINAV SONA ERMIŞTİR. LÜTFEN CEVAPLARINIZI KONTROL EDİNİZ.

